

Lezione #4

28/3/2023

Nuova data parziale 12/4/2023 ore 14-17

Esercitazione/simulazione 5-11/4/23

Esercizio "Teorico" di riepilogo su  $\vec{F}$ , leggi di Newton, Energia, Lavoro

Esercizio di riepilogo sulle tre leggi di Newton.

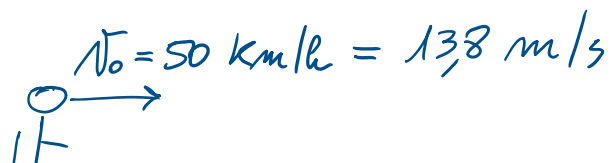
Cinture di sicurezza e airbag salvano vite umane nel caso di un urto. Ma come funziona esattamente da un punto di vista fisico? Le auto sono progettate per comprimersi in modo tale da assorbire l'urto nella parte anteriore dell'auto e la funzione della cintura di sicurezza è quella di mantenere il passeggero solidale con la macchina.


1. Cosa succede invece a un occupante senza cintura di sicurezza? A quale legge di Newton possiamo fare riferimento per spiegarne il moto?

In assenza di cintura l'occupante procede con la sua velocità iniziale fino a incontrare il lunotto anteriore dell'auto e decelera solo all'impatto, su una distanza pari a quella del vetro dell'auto  $\Delta x_{\text{vetro}} = 5 \text{ mm}$  e in un tempo di circa  $\Delta t = 0.5 \text{ ms}$ . Supponiamo che l'auto stia procedendo lungo asse  $x$  alla velocità iniziale di  $v_x = 50 \text{ km/h}$  (tutta diretta lungo asse  $x$ ) e che la massa del passeggero sia  $m = 60 \text{ kg}$ . Sapendo che nell'urto l'auto passa dalla velocità iniziale a una velocità finale nulla nelle distanze riportate (1 m vs 5 mm) e che la forza massima sopportabile da un essere umano sulla fronte del cranio, prima di fratturarsi è pari a  $F_{\text{max}} = 6 \text{ kN}$ , discutere:

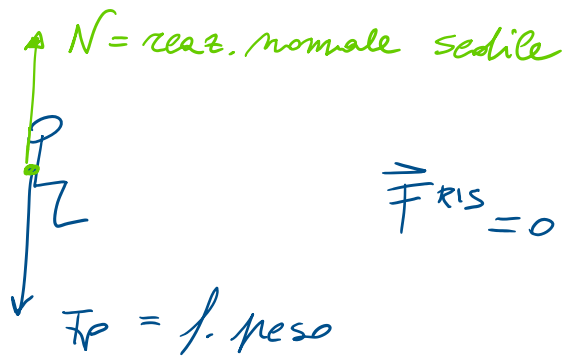
2. Il moto applicando i teoremi della conservazione dell'energia meccanica e della variazione di energia cinetica

1) NO CINTURA:





Forze:



$$\begin{cases} F_x = 0 \\ F_y = -F_p + N = 0 \end{cases}$$

(trascuriamo attrito anz)

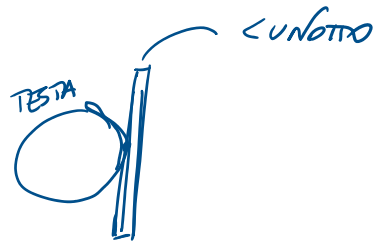
se  $\vec{F}^{RIS} = \vec{0} \Rightarrow$  PRINCIPIO INERZIA (1<sup>a</sup> legge di Newton)

$\Rightarrow \vec{v} = \vec{c}ost$  non può cambiare

se  $v_0 = 13,8$  m/s prima della collisione col lunotto

$$v_F = v_0$$

Impatto con il lunotto  $\Rightarrow$



da  $v_F \rightarrow v_F' = 0$  da  $13,8$  m/s a  $0$  m/s

$$\frac{\Delta v}{\Delta t} \neq 0 = \frac{(0 - 13,8)}{\underbrace{(0,5)10^{-3}}_{0,5 \text{ ms}}} = -27.600 \text{ m/s}^2$$

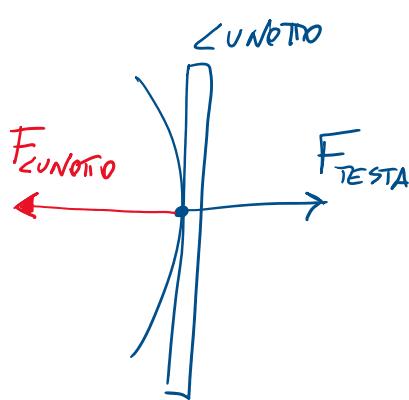
$$a = 27.600 \text{ m/s}^2 \quad \text{decelerazione}$$

se  $a \neq 0 \Rightarrow$  II<sup>a</sup> LEGGE DI NEWTON

$$\vec{F} = m\vec{a}$$

$$F_{\text{TESTA}} = 60 \cdot 27.600 = 1,656 \cdot 10^6 \text{ N}$$

Le forze che la testa imprime al lunotto anteriore



a punto pto il lunotto

"reagisce"

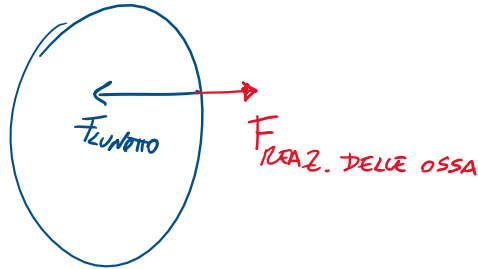


PRINCIPIO DI AZIONE-REAZIONE



Il cinto riguarda con una forza  $F_{\text{CINTO}} = -F_{\text{TESTA}}$

$$F_{\text{REAZ. DELLE OSSA}} = 6 \cdot 10^3 \text{ N}$$



Quindi dal momento che  $F_{\text{CINTO}} = 1,6 \cdot 10^6 \text{ N} \gg 6 \cdot 10^3 \text{ N}$

$\Rightarrow$  ROTURA DELLE OSSA  $\Rightarrow$  TRAUMA CRANICO  $\Rightarrow$  

Nel caso in cui ci fosse l'airbag  $\Rightarrow \Delta v = -13,8 \text{ m/s}$

diminuire in un tempo molto + lungo  $\Delta t = 0,5 \text{ s}$

$$a = \frac{\Delta v}{\Delta t} = - \frac{13,8}{0,5} = -27,6 \text{ m/s}^2$$

A diagram below the equation showing a bracket under the denominator  $\Delta t$  and an arrow pointing from the denominator to the numerator  $\Delta v$ , indicating the relationship between the variables.

$$F_{\text{AIRBAG}} = ma = 1'656 \text{ N}$$

Questa volta

$$F_{\text{INERZIA}} \ll F_{\text{ROTTURA OSSA}}$$


$$1,6 \cdot 10^3 \text{ N} \ll 6 \cdot 10^3 \text{ N} \quad \checkmark$$

Le ossa non si rompono  $\Rightarrow$   $\downarrow$

DAL PUNTO DI VISTA ENERGETICO:

$$\bullet) \quad L = \vec{F} \cdot \vec{d} = F d \cos \theta$$

|  
forza      ↳ spostamento



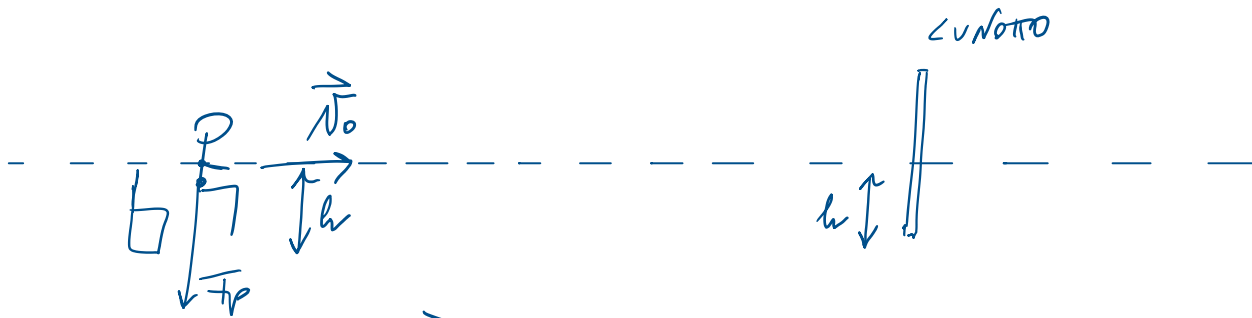
$$\bullet\bullet) \quad \Delta K = L \quad \left[ \text{Vale sempre per qualunque tipo di forza} \right]$$

$$\bullet\bullet\bullet) \quad \Delta K + \Delta U = 0 \quad \left[ \text{Vale solo per le forze conservative} \right]$$

$$K_{\text{IN}} + U_{\text{IN}} = K_{\text{FIN}} + U_{\text{FIN}}$$

Quindi da un PLO di vista energetico:

1) NO AIRBAG; NO CINTURA



Forze in gioco:

$$\vec{F}_p$$

è una forza conservativa



Conservazione di meccanica

$$K_{IN} + U_{IN} = K_{FIN} + U_{FIN}$$

INIZIO: mi stavo dal sedile

FINE: STO x TOCCARE IL CUNOTTO

$$\frac{1}{2} m v_0^2 + mgh = K_{FIN} + mgh$$

$$K_{FIN} = \frac{1}{2} m v_0^2$$


$$\cancel{\frac{1}{2} m v_F^2} = \cancel{\frac{1}{2} m v_0^2}$$

$$v_F = v_0$$



$$\Delta K = L$$

$$\Delta K = \angle_{\text{FORZA CUNOTTO}} = \text{FORZA CUNOTTO} \cdot d \underbrace{\cos \theta}_{-1}$$
$$= - \text{FORZA CUNOTTO} d$$



$$0 + \underbrace{\frac{1}{2} m v_0^2} = + \underbrace{\text{FORZA CUNOTTO}} \underbrace{d}$$

↓  
distanza micrometrica  
4,5 mm  
⇓  
FORZA CUNOTTO enorme

IN PRESENZA DI AIRBAG: forze non conservative



$$\Delta K = L$$

↓

$$\text{segnale} = \underbrace{L_{\text{AIRBAG}}}_{\text{grosse parte energie}} + \underbrace{L_{\text{FORZA LUNOTTO}}}_{\text{lunotto su una distanza molto maggiore}}$$

grosse parte energie per due airbag compie  
lunotto su una distanza molto maggiore

1 vs 5 mm !

⇓

$L_{\text{FORZA LUNOTTO}} \ll$  rispetto a primo

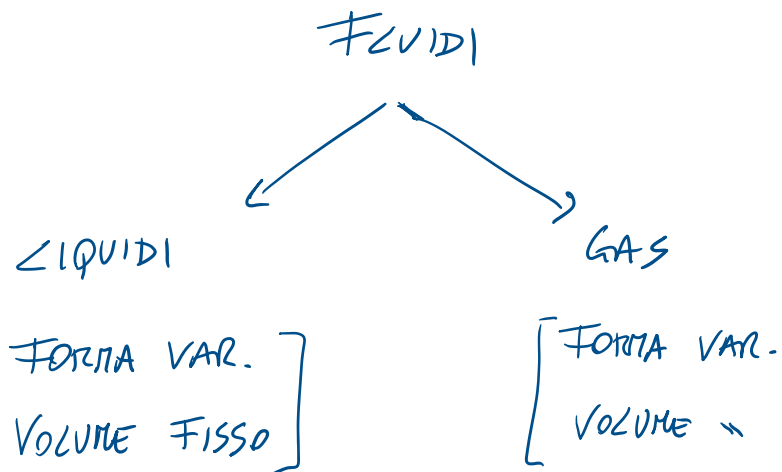
⇓

FORZA LUNOTTO molto + PICCOLA

## FLUIDI

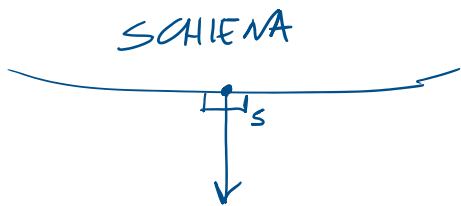
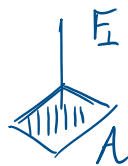
Stato di aggregazione delle materie caratterizzato  
da legami molecolari + deboli che nei corpi rigidi

⇒ forme e volume possono cambiare.



$\vec{F}$  →  $p = \text{PRESSIONE}$

$$p = \frac{F_{\perp}}{A}$$



$$p = \frac{F_{\perp}}{S}$$

ma se ho  $\perp$  piccolo  $S$  è molto  
piccolo

$$p = \frac{F_{\perp}}{S} \quad \text{molto grande}$$

$$[p] = \frac{N}{m^2} = Pa = \text{Pascal}$$