

Lezione #21

28/5/2024

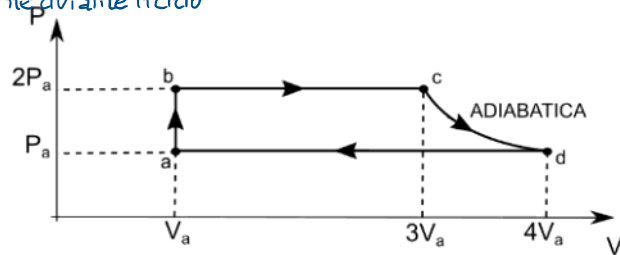
- IL 2° PARZIALE SI SVOLGERÀ IL 7/6/2024 ore 10:00 - 12:00 IN
 AULA 15 D'ANNUNZIO -

Esercitazione:

Esercizio 1 (13 pts)

Un certo numero n di moli (sconosciute) di un gas perfetto monoatomico ($C_v=3/2 R$; $C_p= 5/2 R$), compie il ciclo termodinamico mostrato in figura con $p_a V_a = 2486 J$. Calcolare:

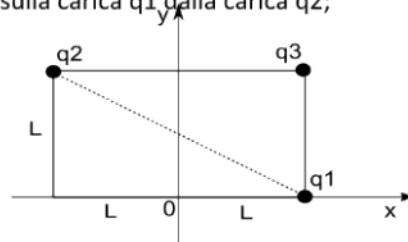
1. Il calore assorbito e ceduto complessivamente durante il ciclo;
2. Il lavoro svolto durante il ciclo;
3. Il rendimento termico di questa macchina;
4. Il rendimento di una macchina di Carnot che opera tra due sorgenti a $T_2 = 365 K$ e $T_1 = 922 K$, rispettivamente.



Esercizio 2 (13 pts)


Tre cariche puntiformi q_1 , q_2 e q_3 , sono tenute ferme nella configurazione riportata in figura. Le cariche valgono: $q_1 = q_2 = 3.20 \cdot 10^{-19} C$ e $q_3 = -2q_1$ e la distanza $L = 2.66 cm$. Calcolare:

1. Il modulo, direzione e verso della forza di Coulomb esercitata sulla carica q_1 dalla carica q_2 ;
2. Il valore del campo elettrico complessivo all'origine degli assi;
3. Supponendo ora che la carica q_2 si metta in movimento con una velocità pari a $v_2 = 2 \cdot 10^6 m/s$ diretta lungo l'asse delle x crescenti e che sia immersa in un campo $B = 5 T$ perpendicolare al piano xy e uscente, calcolare e disegnare la Forza di Lorentz risultante.

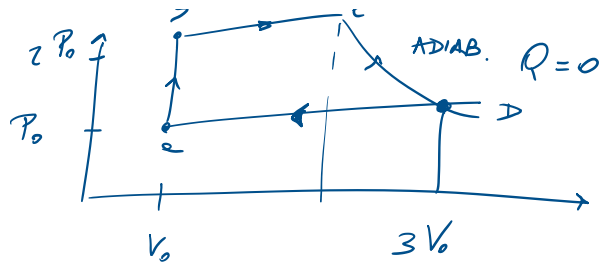


$$\left(\frac{1}{4\pi\epsilon_0} = 8,99 \cdot 10^9 \frac{Nm^2}{C^2} \right)$$

Soluzione #1



1) Assorbiamo calore:



$$Q_{ab} + Q_{bc}$$

Cediamo calore:

$$Q_{da}$$

$$Q_{ab} = m c_v (T_b - T_a) + m c_p (T_c - T_b)$$

$$PV = nRT$$

$$T = \frac{PV}{nR}$$

$$= n \frac{3}{2} R \left(\frac{2P_a V_a}{nR} - \frac{P_a V_a}{nR} \right) + n \frac{5}{2} R \left(\frac{2P_a 3V_a}{nR} - \frac{2P_a V_a}{nR} \right)$$

$$= \frac{3}{2} P_a V_a (1) + \frac{5}{2} P_a V_a (4) = \frac{3}{2} P_a V_a + \frac{20}{2} P_a V_a$$

$$= \frac{23}{2} P_a V_a = \frac{23}{2} \cdot 2486 = 28589 \text{ J}$$

$$Q_{ass} = 28589 \text{ J}$$



$$Q_{ced} = Q_{da} = m c_p (T_a - T_d) = n \frac{5}{2} R \left(\frac{P_a V_a}{nR} - \frac{4 P_e V_e}{nR} \right)$$

$$= \frac{5}{2} (-3) P_e V_e = -\frac{15}{2} P_e V_e = -18645 \text{ J}$$

$$Q_{ced} = -18645 \text{ J}$$

3) Lavoro svolto \rightarrow ciclo $\rightarrow \Delta E_{int} = 0$

\rightarrow I° PR. TERMODINAMICA $\Delta E = Q - L$

$$0 = Q - L \quad \Rightarrow \quad L = Q \quad \checkmark \quad \text{in un ciclo}$$

$$L = |Q_{ass}| - |Q_{ced}| = 28589 - 18645 = 9944 \text{ J}$$

$$L = 9944 \text{ J}$$

$$4) \quad \eta = \frac{L}{|Q_{ass}|} = \frac{|Q_{ass}| - |Q_{ced}|}{|Q_{ass}|} = \frac{|Q_{ass}|}{|Q_{ass}|} - \frac{|Q_{ced}|}{|Q_{ass}|} = 1 - \frac{|Q_{ced}|}{|Q_{ass}|}$$

$$= 1 - \frac{18645}{28589} = 0,34 = 34\%$$

$$\eta = 34\%$$

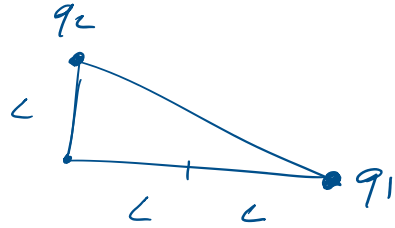
$$5) \quad \eta_{Carnot} = 1 - \frac{T_1}{T_2} = 0,6041 \approx 60\%$$

$$\eta_{\text{max}} = 60\%$$

Soluzione Esercizio #2

1)

$$F_{12} = \frac{1}{4\pi\epsilon_0} \frac{|q_1||q_2|}{r_{12}^2}$$

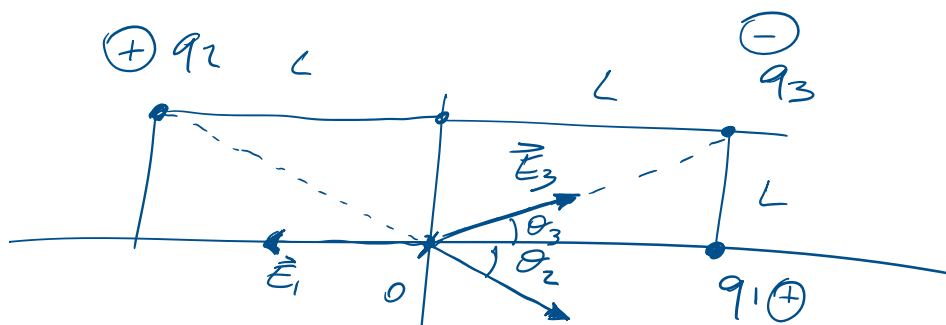


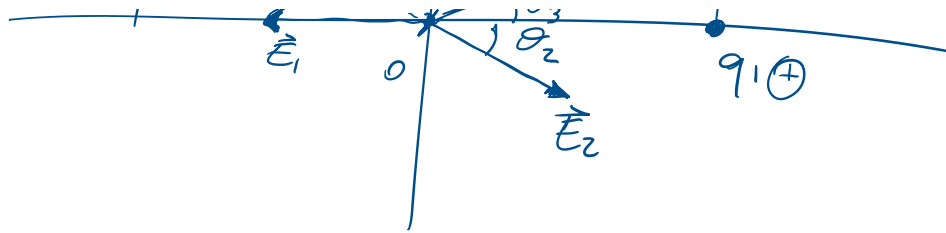
$$r_{12} = \sqrt{L^2 + 4L^2} = L\sqrt{5}$$

$$= \frac{1}{4\pi\epsilon_0} \frac{q^2}{5L^2} = (8,99 \cdot 10^9) \frac{(3,2 \cdot 10^{-19})^2}{5(2,66 \cdot 10^{-2})^2}$$

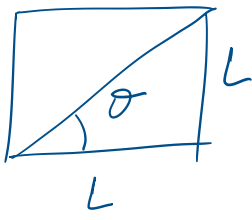
$$F_{12} = 2,6021 \cdot 10^{-25} \text{ N}$$

2)





$$\begin{cases} E_x = -E_1 + E_2 \cos \theta_2 + E_3 \cos \theta_3 \\ E_y = -E_2 \sin \theta_2 + E_3 \sin \theta_3 \end{cases}$$



$$\theta = 45^\circ \quad \theta_2 = \theta_3 = 45^\circ$$

$$\begin{cases} E_x = \frac{1}{4\pi\epsilon_0} \left[-\frac{q_1}{L^2} + \frac{q_2 \cos(\theta_2)}{2L^2} + \frac{q_3 \cos \theta_3}{2L^2} \right] \\ E_y = \frac{1}{4\pi\epsilon_0} \left(-\frac{q_2 \sin \theta_2}{2L^2} + \frac{q_3 \sin \theta_3}{2L^2} \right) \end{cases}$$

$$q_1 = q_2 \quad |q_3| = 2q_1$$

$$\begin{cases} E_x = \frac{q}{4\pi\epsilon_0 L^2} \left[-1 + \frac{1}{2} \sqrt{\frac{2}{2}} + \frac{2}{2} \sqrt{\frac{2}{2}} \right] \\ E_y = \frac{q}{4\pi\epsilon_0 L^2} \left[-\frac{1}{2} \frac{\sqrt{2}}{2} + \frac{1}{2} \cdot 2 \frac{\sqrt{2}}{2} \right] \end{cases}$$

$$\begin{cases} E_x = 4,5591 \cdot 10^{-6} \frac{N}{C} \\ E_y = 1,437 \cdot 10^{-6} \frac{N}{C} \end{cases}$$

$$|\vec{E}| = \sqrt{E_x^2 + E_y^2} = 4,7804 \cdot 10^{-6} \frac{\text{N}}{\text{C}}$$

$$3) \quad \vec{F}_L = q\vec{v} \times \vec{B} \quad F_L = qvB \sin\theta \quad \theta = \frac{\pi}{2}$$

$$F_L = qvB = 3,2 \cdot 10^{-12} \text{ N}$$

